



HAFİZİHO&PROJEİHO

4. SINIFLAR

SEVİYE BELİRLEME SINAVI

2024

Adı Soyadı :

Okulu :

T.C. Kimlik No :

ALANLAR	SORU SAYISI	TOPLAM SORU SAYISI	SÜRE
TÜRKÇE	15	60 SORU	90 DAKİKA
MATEMATİK	15		
FEN BİLİMLERİ	10		
SOSYAL BİLGİLER	10		
DİN KÜL.AH.BİL.	5		
İNGİLİZCE	5		

1. Sınav süresince gözetmenlerin uyarılarına dikkat ediniz.
2. Sınav süresince kitap, sözlük veya elektronik araçları yanınızda bulundurmuyunuz.
3. Cevap kağıdınızdaki bilgilerin doğruluğunu kontrol ediniz.
4. Kitapçık üzerindeki ad-soyad, sınıf-no, okul bilgileriniz kodlamayı unutmayınız.
5. Cevap kağıdınız üzerinde bulunan kitapçık türünü doğru kodladığınızdan emin olunuz.
6. Sınavın değerlendirilmesi optik okuma araçları ve elektronik ortamda yapılacağından ikili veya toplu kopya çekilmesi tespit edilmektedir. Bu gibi durumlarda sınavınız geçersiz sayılacaktır.
7. Cevap kağıdı üzerinde kurşun kalemle işaretleme yapınız. Değiştirmek istediğiniz cevabınızı yumuşak silgi ile iz bırakmadan siliniz. Cevap kağıdınızı buruşturmayınız ve katlamayınız.
8. Soru kitapçığınızı sınav başlamadan kontrol ediniz. Eksik sayfa varsa değiştirilmesini isteyiniz.
9. Sınav bitiminde cevap kağıdınızı teslim etmeyi unutmayınız. Her sorunun bir doğru cevabı bulunmaktadır.
10. Başlayınız denilmeden kitapçığınızı açmayınız.
11. **ÖNEMLİ:** TC Kimlik numaranızı cevap formu üzerindeki alana dikkatli kodlayınız.

© Her hakkı saklıdır. İzinsiz kopyalanamaz, alıntı yapılamaz, yayınlanamaz.

1.



Bir okçuluk turnuvasında ilk altı sırayı alan ülke takımlarının isimleri karışık olarak şöyle verilmiştir: Güney Kore, Türkiye, Hollanda, Çin, Amerika, Fransa

- Takımlardan Çin 5. sırayı almıştır.
- Türkiye ile Amerika sıralamada arka arkaya ve her ikisi de sıralamada Hollanda'dan sonra gelmektedir.
- Fransa ile Güney Kore arasında ise dört takım bulunmaktadır ve Fransa başarı sıralamasında Güney Kore'den öncedir.

Buna göre turnuvayı 2. sırada bitiren takım aşağıdakilerden hangisidir?

- A) Hollanda B) Türkiye
C) Fransa D) Amerika

2. (1) Birbirimizi kırıp üzme o kadar çok alışmışız ki bu durum çok acı verici. (2) Haklı olduğumuzu düşündüğümüzde kibarlığı elden bırakıyor ve bazen kabalaşabiliyoruz. (3) Yapılan hatalardan dolayı bazen birbirimizin yüzüne bakamaz duruma gelebiliyoruz. (4) Oysa haklı olunca hakkımızı kibarca istesek, haksız olunca yaptıklarımızdan özür dilesek her şey çok farklı olabilir. (5) Bu şekilde hayat daha yaşanılabilir olur ve mutlu bir yaşamın kapılarını açmış oluruz.

Bu metnin ilk cümlesindeki soruna numaralandırılmış cümlelerin hangisinde bir çözüm sunulmuştur?

- A) 2.
B) 3.
C) 4.
D) 5.

3. Ahlak, pek çok etkenden etkilenecek şekilde lenir. Bunlar arasında belki de en önemlisi çocukken aileden edinilen özelliklerdir. Çünkü kişi küçükken gördüğü, duyduğu söz ve davranışları adeta ezberler ve tekrar eder. Küçükken kendisine yapılan telkinleri hiç unutmaz.

Bu parçada verilen mesaj aşağıdakilerden hangisidir?

- A) Ahlak gelişiminde insanın gelişimi hiç durmaz.
B) İnsan, ahlakı sayesinde iyi veya kötü bir kimse olarak nitelendirilir.
C) Çocukların ahlakı büyüklerin ahlakına göre daha temizdir.
D) Erken çocukluk dönemi ahlak gelişimindeki en önemli dönemdir.

4. Epeydir tedavi süreci devam ediyordu. Kısa zaman önce ise hastalığının neredeyse tümüyle geçtiğini doktordan öğrenmişti. İyileşmek üzereydi ancak kendisi gibi hasta olan daha pek çok arkadaşını düşünmeden edemiyordu. Onlar da iyileşebilecek miydi? İşte bu nedenle ...

Cümlelerin akışına göre sondaki noktalı yerden itibaren aşağıdakilerden hangisiyle tamamlanması gerekir?

- A) ... evine gideceği için bir hayli heyecanlıydı.
B) ... sevinç ve üzüntü arasında gidip geliyordu.
C) ... hastalığından kurtulmanın sevincini belli etmeden duramıyordu.
D) ... hastaneye gelmeyecek ve mutlu bir yaşam sürecekti.

5. "Arkadaşları arasında onu o kadar övdüler ki bir ara kıpkırmızı kesildiğini gördüm."

Metinde geçen mecaz anlamlı ifadenin anlamca karşılığı aşağıdakilerden hangisidir?

- A) Sevinmek
B) Aşırı utanmak
C) Çok üzülme
D) Korkmak

6. Araç karşı şeride girdiğinde şoför, kullandığı minibüsün kontrolünü kaybettiğini anladı. Neyse ki trafik yoğun değildi ve karşıdan gelen birkaç araç dışında yol boştu. 18 yaşında ehliyeti aldığından beri ilk kazasını yaşamaya çok yaklaştı. Biraz korku biraz da şaşkınlıkla aracını yolun kenarına güçlükle çekti.

Metne göre şoför ile ilgili aşağıdakilerden hangisi kesinlikle söylenir?

- A) Araç kullanmakta her zaman zorlanmaktadır.
B) En çok kullandığı araç minibüstdür.
C) Şu an yaşı 25-30 arasındadır.
D) Hiç kaza yapmamıştır.

7. Otobüs yolculuğu yeni başlamıştı. Yol o kadar sisliydi ki şoför çok yavaş gitmek zorunda kalıyordu. Yolculardan biri sürekli saatine bakarak kendi kendine bir şeyler söylüyordu. Belli ki acelesi vardı ama geç kalacağından korkuyordu. Bir ara muavin yolculara içecek isteyip istemediklerini sordu. Ön sıralardaki ihtiyar bir teyzenin "Bana su getirir misin" dediğini duydum. Adının Ali olduğunu öğrendiğim genç bir çocuk da su istemişti. Otobüste tanışmıştık. Bir ara bana dönüp "Mustafa abi, Sannırım epey geç kalacağız. Senin de yetişmen gereken bir yer var mıydı?" dedi. Benim acelem yoktu. Bayram tatili için Mehmet Dedemi ziyarete gidiyordum.

Bu metinde anlatımı aşağıdakilerden hangisi yapmış olmalıdır?

- A) Muavin
B) Ali
C) Mustafa
D) Mehmet Dede

8. "sönmek" sözcüğü aşağıdaki cümlelerden hangisinde "duyguların yatışması" anlamında kullanılmıştır?

- A) Korkma, sönmez bu şafaklarda yüzen al sancak.
B) Yangının sönmesi için çevre ilçelerden ekipler de hızla geldi.
C) Son yıldız vadinin üstünde bir yanıp bir sönüyordu.
D) Öfkeleri bir yaz fırtınası gibi birdenbire söndü.

9. (Soruyu aşağıdaki tabloya göre cevaplandırınız.)

1. Kelime grubu	2. Kelime grubu
Kısa	Çıkış
Giriş	Temiz
Geliş	Son
İlk	Uzun
Sıcak	Gidiş

Verilen tabloda 1. gruptaki kelimeler 2. gruptaki kelimelerle zıt anlamlı olmalarına göre eşleştirilecektir. Bu eşleştirme yapıldığında her iki grupta da birer kelime, zıt anlamları olmadığı için eşleştirilememiştir.

Bu iki kelime aşağıdakilerden hangisinde verilmiştir?

- A) Sıcak – Temiz
B) Kısa – Gidiş
C) İlk - Çıkış
D) Giriş – Uzun

10. Sağlıklı yaşamın önündeki en büyük engellerden biri hareketsizliktir. Bu durum beraberinde pek çok hastalığı da getirmektedir. Çünkü insan düzenli hareket ettikçe kan dolaşımı, solunum, sindirim ve daha pek sistemini de harekete geçirmiş olur. Bazen kısa bir yürüyüş, eve çıkarken merdiven kullanma gibi aktiviteler sağlıklı yaşamın anahtarlarıdır.

Verilen metnin başına getirilebilecek en uygun başlık aşağıdakilerden hangisidir?

- A) Hastalık Çeşitleri
B) Tedavi Yöntemleri
C) Hareketin Sağlığa Etkisi
D) Bedensel Özellikler

11.



Bu görsel aşağıdakilerden hangisine dikkat çekme amacıyla hazırlanmıştır?

- A) Kâğıt İsrafının Önlenmesi
- B) Enerji Tasarrufu
- C) Yeraltı Kaynaklarının Tüketimi
- D) Zenginliğin Adaletli Dağılımı

12. Kaç zamandır pikniğe gitmeye niyetleniyoruz ama hava bir türlü güzel olmuyor. Yine gitmek için hazırlık yaptık. Yarın gitmeyi düşünüyoruz. Belki ...

"Belki" sözcüğü göz önüne alındığında üç nokta ile belirtilen yere aşağıdakilerden hangisi getirilmelidir?

- A) Bu defa hava şartları müsait olur da gideriz.
- B) Pikniği iptal etsek daha iyi olacak.
- C) Uygun bir araç bulamasak da otobüsle gideriz.
- D) Ailemizle gitmektense tek gitmek daha iyi.

13. Ablamı ne zamandır görmemiştim. Bana gönderdiği e-postada hafta sonu geleceğini yazmış. Mesajı okuyunca gözlerime inanamadım. Hemen koşup müjdeyi aneme verdim.

Bu cümlede hâkim olan duygu aşağıdakilerden hangisidir?

- A) Sevinç
- B) Sitem
- C) Korku
- D) Kızma

14. Aşağıdaki cümlelerde geçen altı çizili sözcüklerin hangisinde yazım yanlışı yoktur?

- A) 2.ciyi geçen kaçınıcı olur?
- B) İstanbuldan Ankara'ya doğru yol alıyoruz.
- C) İstiklal Marşımız Mehmet akif ersoy tarafından kaleme alınmıştır.
- D) Sende olan özellikler herkeste yok.

15. Bir öğrenci yaptığı bir resmi öğretmenine götürüp değerlendirmesini istemiş. Öğretmeni "resmini arkadaşların değerlendirsün. Onu al ve panoya as! Yanına da bir kırmızı kalem ile şu yazıyı bırak: "Lütfen beğenmediğiniz yere çarpı koyunuz." Öğrenci söyleneni yapmış ve birkaç gün sonra resme bakmaya gittiğinde görmüş ki resmi kırmızı çarpılarla doldurulmuş. Öğrenci buna çok üzülmüş. Resmi almış ve hocasına götürmüş. Öğretmeni bu defa aynı resmi yeniden yapıp yanına da yağlı boya ve fırça ile birlikte şu yazıyı bırakmasını söylemiş: "Lütfen beğenmediğiniz yerleri düzeltiniz." Öğrenci birkaç gün sonra gidip bakmış, resme kimse dokunmamış.

Bu metinde eleştirilen konu aşağıdakilerden hangisidir?

- A) Kötü resim yapma
- B) Yapıcı olmayan eleştiride bulunma
- C) Resim değerlendirenlerin azlığı
- D) Eğitimdeki imkânsızlıklar

Türkçe testi sona ermiştir. Lütfen Diğer Teste Geçiniz.

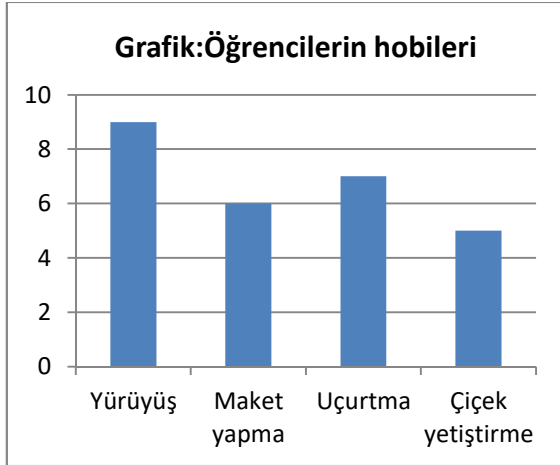
Cevap Formunuzda Cevaplarınızı Bir Sonraki Bölüme Kodlayınız.

1. Bir işyerinde 1, 2 ve 5 litrelik üç farklı bidonda süt satılmaktadır. Başka boyda veya açık süt satılmamaktadır. Bu iş yerinde bir hafta boyunca 122 adet 1 litrelik, 45 adet 2 litrelik süt satılmıştır. Aynı hafta boyunca satılan toplam süt miktarı 272 litredir.

Buna göre aynı hafta içinde kaç adet 5 litrelik süt satılmıştır?

- A) 12
B) 60
C) 122
D) 242

2. Aşağıdaki grafikte bir sınıftaki öğrencilerin ilgilendikleri hobilerine göre sayıları verilmiştir. Sınıftaki her öğrenci yalnızca bir hobi seçmiştir. Hobi tercih etmemiş öğrenci yoktur.



Buna göre aşağıdakilerden hangisi yanlıştır?

- A) Sınıf mevcudu 27 kişidir.
B) En az ilgi duyulan hobi çiçek yetiştirme dir.
C) Yürüyüş seven öğrenci sayısı uçurtma seven öğrencilerden fazladır.
D) Maket yapma ve çiçek yetiştirmeyi sevenlerin toplam sayısı sınıfın yarısından fazladır.

3.

Ürün	Kilo fiyatı
Gofret	9 TL
Bisküvi	13 TL
Kakaolu süt	18 TL
Çikolata	23 TL
Meyve suyu	25 TL

Bir bakkaldaki bazı ürünlerin adet fiyatları yukarıda verilmiştir.

Buna göre aşağıdaki müşterilerin hangisi diğerlerinden daha çok harcamıştır?

- A) Merve: "İki gofret, bir bisküvi ve bir kakaolu süt aldım."
B) Cansu: "Bir meyve suyu, bir bisküvi ve bir çikolata aldım."
C) Sami: "Üç gofret, bir kakaolu süt ve bir çikolata aldım."
D) Ahmet: "İki bisküvi, iki kakaolu süt aldım."

4.



Cep Telefonu Satış Planı:

Peşinat: 750 TL

Taksit tutarı: 450 TL

Taksit sayısı: 8

Emin Bey, yukarıdaki cep telefonunu öğluna almıştır. Telefonun satış planı yukarıdaki şekildedir.

Emin Bey, 6. taksitini ödediğinde o âna kadar ödediği toplam miktar kaç TL'dir?

- A) 2700
B) 3450
C) 3900
D) 4350

5. Bir simit fırını bir kampanya düzenlemiştir. Bu kampanyaya göre alınan her dört simit için üç simit parası ödenecektir. Kampanyanın olduğu gün içinde 94 kişi dörder simit almıştır. Kampanya sonunda satıştan elde edilen para miktarı 2538 TL olmuştur.

Buna göre bir simit fiyatı kaç TL'dir?

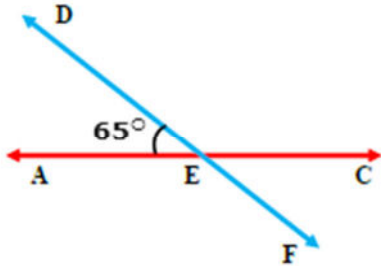
- A) 7
B) 8
C) 9
D) 10

6. Bir internet kullanıcısı hafta içi 5 günde toplam 801 MB internet kullanmıştır. Bu kullanıcının interneti en çok kullandığı gün çarşambadır. En az kullandığı gün ise salı olmuştur. Pazartesi günü kullandığı internet miktarı 178 MB, perşembe günü kullandığı internet miktarı 156 MB, cuma günü ise kullandığı internet miktarı 163 MB olmuştur.

Buna göre salı günü kullandığı internet miktarı en çok kaç olabilir?

- A) 105
B) 115
C) 125
D) 135

7.



Yukarıdaki şekilde AEC ve DEF açıları doğru açılarıdır. AED açısının ölçüsü 65° 'dir.

Şekle göre CEF açısının ölçüsü kaçtır?

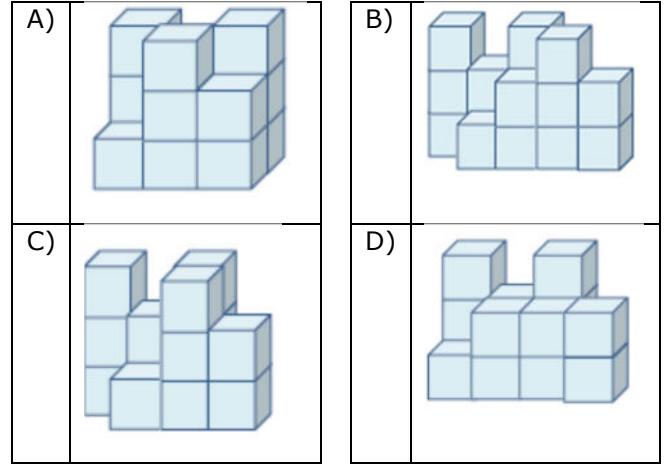
- A) 50°
B) 55°
C) 60°
D) 65°

8.



Yukarıda bir yapının zemini verilmiştir. Zemin üzerinde kaç tane eş küp bulunduğu üzerindeki rakamlarla gösterilmiştir.

Bu yapının tamamlanmış hali aşağıdakilerden hangisidir?



9. Aşağıda verilen iki işlemin sonuçları eşittir.

$$\begin{array}{r} 4568 \\ - 1265 \\ \hline \end{array} \quad \begin{array}{r} \triangle 828 \\ + 14\star\blacksquare \\ \hline \end{array}$$

Bu toplama işleminde \triangle , \star ve \blacksquare birer rakamdır.

Buna göre \triangle , \star ve \blacksquare rakamlarıyla yazılabilecek en büyük sayı aşağıdakilerden hangisidir?

- A) 751
B) 810
C) 432
D) 960

- 10.** Bir sayının çözümlenmiş hali "7 yüz binlik + 2 binlik + 1 yüzlük + 6 onluk" şeklinde yazılmıştır. Daha sonra bu sayıya "7 on binlik" ve "9 birlik" eklenmiştir.

Buna göre bu işlemin sonucunda elde edilen sayının yazılışı aşağıdakilerden hangisidir?

- A) Altı yüz yetmiş bin üç yüz elli dokuz
B) Yedi yüz yetmiş iki bin yüz altmış dokuz
C) Yedi yüz elli beş bin altı yüz seksen sekiz
D) Yedi yüz altmış beş altmış yedi

- 11.** Aşağıda verilen bölme işleminde A, B ve C harfleri birer rakamı ifade etmektedir.

$$\begin{array}{r} 4256 | 64 \\ - ABC \\ \hline 416 \\ - ABC \\ \hline 32 \end{array}$$

Buna göre A+B+C işleminin sonucu aşağıdakilerden hangisidir?

- A) 12
B) 13
C) 14
D) 15

- 12.** I- Önce tek basamaklı iki sayı belirleyin.
II- Belirlediğiniz sayıları birbiriyle çarpın.
III- Çarpım sonucu elde ettiğiniz sayıdan başta belirlediğiniz iki sayının toplamını çıkarın.

Buna göre 5 ve 8 sayılarını belirlediğinizde ve yukarıdaki adımları takip ettiğinizde ulaşılabilecek sonuç aşağıdakilerden hangisidir?

- A) 27
B) 31
C) 34
D) 40

- 13.** Aşağıdaki sayılardan hangisi 150 sayısının $\frac{7}{10}$ 'si ile 120 sayısının $\frac{4}{5}$ 'ü arasındadır?

- A) 75
B) 90
C) 102
D) 110

- 14.**

$\frac{5}{13}$		$\frac{2}{13}$
$\frac{4}{13}$?
$\frac{3}{13}$	$\frac{6}{13}$	

Yukarıdaki tabloda her satır ve sütundaki kesirlerin toplamı birbirine eşittir.

Buna göre soru işareti olan karenin içine hangi kesir yazılmalıdır?

- A) $\frac{5}{13}$ B) $\frac{6}{13}$
C) $\frac{7}{13}$ D) $\frac{8}{13}$

- 15.** Bir okulda sabah ilk dersin başlangıç saati 08.00'dir. Ders süreleri 40'ar dakika olup ilk teneffüs 20 dakikadır. Diğer teneffüsler ise 15'er dakikadır. Öğle arasına kadar beş ders yapılmakta ve aralarında dört teneffüs uygulanmaktadır.

Buna göre bu okulda öğle arasının başlangıç saati aşağıdakilerden hangisidir?

- A) 12.10
B) 12.25
C) 12.35
D) 12.45

Matematik testi sona ermiştir. Lütfen Diğer Teste Geçiniz.


Cevap Formunuzda Cevaplarınızı Bir Sonraki Bölüme Kodlayınız.

1. Kayaçların fiziksel şekilde ufalanması sonucu kil, kum ve çakıl gibi materyaller ortaya çıkar. Aşındırma ve parçalanma kendiliğinden değil de çeşitli etkenlerle meydana gelir. Bu etkenler çoğunlukla doğada meydana gelen doğal etkenlerdir.

Aşağıdakilerden hangisi kayaçların parçalanmasına neden olan doğal etkenlerden değildir?

- A) Rüzgâr
B) Su
C) İletişim araçları
D) Sıcak soğuk farkı

2.



Vücudumuzda düzenleyici olarak görev yaparlar. Hastalıklara karşı direncimizi artırırlar. Meyve ve sebzelerden alabiliriz.

Çocuğun anlattığı besin türü aşağıdakilerden hangisidir?

- A) Vitamin
B) Karbonhidrat
C) Yağ
D) Protein

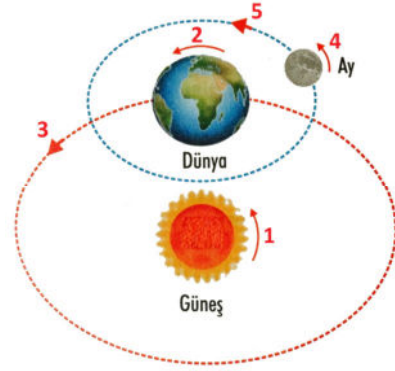
3. Aşağıdaki görseller bir canlı kalıntısının uzun zaman içinde yeryüzü katmanları içindeki değişimini göstermektedir.



Görsel ve açıklaması aşağıdaki konulardan hangisi ile ilişkilendirilir?

- A) Erozyon
B) Fosilleşme
C) Mineralleşme
D) Kayaç oluşumu

4.



Verilen görselden aşağıdakilerden hangisine ulaşamaz?

- A) 2 numarada Dünya, kendi ekseninde dönmektedir.
B) Dünya, Güneş ve Ay kendi eksenleri çevresinde dönmektedir.
C) 3 numarada Dünya'nın Güneş çevresindeki dolanma hareketi gösterilmektedir.
D) Dünya ile Ay'ın kendi eksenleri çevresindeki dönme hızları aynıdır.

5. Bir diyet programı uygulamak isteyen bir kimse doktora gitmiştir. Doktor, hastasına karbonhidrat ve proteinden uzak durmasını söylemiş ve bir süre vitamin ağırlıklı beslenme programı uygulamasını tavsiye etmiştir.

Buna göre bu kimsenin yemesi ve yememesi gereken besinlerle ilgili aşağıdakilerden hangisi yanlıştır?

- A) Et ve tavuk ürünlerini daha az tüketmelidir.
B) Meyve çeşitlerine öğünlerinde daha çok yer vermelidir.
C) Süt ürünlerini her öğünde tüketmeye özen göstermelidir.
D) Tahıl ürünleri ve ekmek yemeyi azaltmalıdır.

6. Hamburger ve pizza gibi yiyeceklerin çok tüketilmesi

Öğünlerin atlanması ve uygun zamanda yenmemesi

Karbonhidrat, şeker ve yağ içeren besinlerin aşırı tüketilmesi

Verilenler aşağıdakilerden hangisinin temel nedenleri arasında sayılmaktadır?

- A) Depresyon
B) Asosyallik
C) Obsesife
D) Obezite

7. I. Oyuncak arabayı ileri doğru hareket ettirme
II. Süte batıracağı bisküviyi ikiye ayırma
III. Kuyuya sarkıtılan kovayı yukarı çıkarma
IV. Market arabasını ileri götürme

Verilenlerden hangisi kuvvetin şekil değiştirici özelliğine örnektir?

- A) Yalnız II
B) I ve IV
C) II ve III
D) I, II ve III

8. Bir grup öğrenci geceleyin gökyüzündeki yıldızları incelemek için okullarının yakınındaki tepelik bir alana giderler. Gece gökyüzünü gözlemeye başladıklarında ise yıldızları tam olarak göremediklerini belirlerler. Çünkü şehirden yayılan parlaklık gökyüzüne yansımakta ve bu durum yıldızların görülmesini zorlaştırmaktadır.

Metinde yıldızların net olarak görülmemesinde aşağıdakilerden hangisinin olumsuz etkisine işaret edilmiştir?

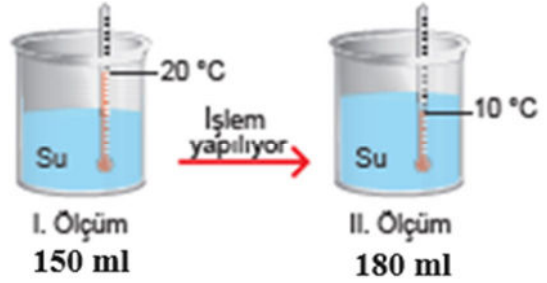
- A) Işık kirliliği
B) Ses kirliliği
C) Deniz kirliliği
D) Çevre kirliliği

9. Mıknatıslar günümüzde pek çok alanda çeşitli amaçlarla kullanılmaktadır. Bazı maddeleri çekme özelliğine sahip olan mıknatısların bu özelliklerinden birçok alanda yararlanılmaktadır.

Aşağıdakilerden hangisi mıknatısın kullanım alanlarında değildir?

- A) Manyetik iğneler ve yön bulmak amacıyla denizci pusulasını oluşturmada
B) Jeneratörlerde, elektrikli hızlandırıcılarda ve elektrikli motorlarında
C) Hoparlörlerde ve elektrikli vinçlerde
D) Altın ve gümüş madenlerini topraktan ayırtmada

10.



Yukarıda aynı kabın bir işlem öncesi ve sonrasındaki durumu gösterilmektedir. İlk ölçümde kabın içindeki suyun sıcaklığının 20 derece ve hacminin 150 ml olduğu görülmüştür. İşlem sonrası yapılan ikinci ölçümde ise su 10 derece olarak ölçülmüş ve hacmi ise 180 ml olarak belirlenmiştir.

Buna göre yapılan işlem aşağıdakilerden hangisi olabilir?

- A) Buzdolabında bir süre tutulmuştur.
B) İçine bir miktar buz atılmıştır.
C) Güneş ışığını alacağı bir yerde bekletilmiştir.
D) Sıcaklığı 35 derece olan bir miktar su eklenmiştir.

Fen Bilimleri testi sona ermiştir. Lütfen Diğer Teste Geçiniz.

Cevap Formunuzda Cevaplarınızı Bir Sonraki Bölüme Kodlayınız.

1. Aşağıdaki haritada ülkemiz üzerinden geçen göçmen kuşlara ait yol güzergahı (rotası) gösterilmektedir.



Buna göre göçmen kuşların rotasını aşağıdakilerden hangisi doğru şekilde anlatmaktadır?

- A) Kuzeyden ülkemize giren kuşlar sırayla önce batıya sonra doğuya doğru yol alıp en son kuzeye yönelip ülkemizi terk etmiştir.
- B) Güneydoğudan ülkemize giren kuşlar sırayla önce güneye sonra doğuya doğru yol alıp yine güneye yönelip ülkemizi terk etmiştir.
- C) Kuzeydoğudan ülkemize giren kuşlar sırayla önce güneye sonra batıya doğru yol alıp yine güneye yönelip ülkemizi terk etmiştir.
- D) Güneybatıdan ülkemize giren kuşlar sırayla önce kuzeye sonra doğuya doğru yol alıp yine kuzeye yönelip ülkemizi terk etmiştir.

2. Küçüklüğümde beri bitkileri araştırır, kırlarda gördüğüm çiçekleri, otları, farklı bitki türlerini incelerim. Zamanla farklı bitkilerin hangi hastalıklara iyi geldiğini, boğazım acıyınca ne içmem gerektiğini öğrendim.

Bu sözleri söyleyen bir genç, ilgi alanına göre meslek olarak aşağıdakilerden hangisini seçmelidir?

- A) Eczacılık
B) Gazetecilik
C) Bilgisayar Yazılımcı
D) İnşaat Mühendisliği

3. Rahmiye Hatun veya diğer adıyla Rahime Hatun Kurtuluş Savaşımızın önemli kahramanlarından biridir. I. Dünya Savaşı'nın ardından ülkemizin güneyinde özellikle Çukurova yöresindeki bazı şehirleri işgal eden Fransızlara karşı savaşmıştır. Atı üzerinde uçar gibi düşmana saldırdığından kendisine "tayyar" unvanı verildiği düşünülür.

Metne göre Tayyar Rahmiye Hatun'un savaştığı şehir aşağıdakilerden hangisidir?

- A) Erzurum
B) Çanakkale
C) Sakarya
D) Osmaniye

4. Aşağıdaki görsel İstanbul Boğazına ait bir görüntüye aittir.



Bu görselde yer alan aşağıdakilerden hangisi doğal unsurlardandır?

- A) İstanbul Boğazı
B) 15 Temmuz Şehitler Köprüsü
C) Ortaköy Camisi
D) Ortaköy İskele Meydanı

- 5.



Görsellerdeki araçlar hangi alandaki teknolojik gelişime örnektir?

- A) Sağlık
B) Haberleşme
C) Ulaşım
D) Temizlik

6. Bir sınıfta seçim heyecanı vardı. Başkanlık için iki aday yarışyordu. Birkaç günlük tanıtım çalışmaları bitmiş sıra oy vermeye gelmişti. Adaylardan biri kazanacağına kesin gözüyle bakıyordu. Ancak seçim bitince almayı düşündüğü oy sayısından bir hayli az oy aldığını görünce pek çok arkadaşına küstü ve onlarla konuşmamaya başladı.

Parçadaki hatalı davranışı uyararak için aşağıdakilerden hangisi kullanılmalıdır?

- A) Arkadaşlarımızla aynı ilgi alanlarına sahip olmalıyız.
B) İhtiyaçlarımızın giderilmesi için birlikte hareket etmeliyiz.
C) Başkalarının duygu ve düşüncelerine saygı duymalıyız.
D) Yeteneklerimizin farkına varmalıyız.

7. Bir iş başvurusu yapacak olan bir kimse-den özgeçmişindeki eğitim ve yeteneklerle ilgili önemli bilgileri başvuru sırasında vermesi istenmiştir. Bu kişinin verdiği bilgiler şöyledir:

- Geçtiğimiz yaz aylarında sıkça pikniğe gittim.
- Üniversitede teknik ressamlık eğitimi aldım.
- İyi derecede İngilizce ve Almanca biliyorum.
- Buraya gelmek için kahvaltıdan sonra yola çıktım.
- Başvurduğum işle ilgili son üç yılda özel bir şirkette çalışarak tecrübe kazandım.

Buna göre verilen bilgilerden hangisi bu listeden çıkarılmalıdır?

- A) 1 – 3
B) 1 – 4
C) 1 – 4 – 5
D) 2 – 3 – 5

8. I. Yer kabuğunun derin katmanlarının kırılıp yer değiştirmesidir.

II. Eğimli dağ yamaçlarında biriken kar kütlelerinin koparak aşağıya doğru büyü-yerek inmesidir.

III. Rüzgâr ve yağışların etkisiyle toprağın verimli kısımlarının aşınarak taşınmasıdır.

Verilenler arasında aşağıdaki hangi doğal afetin tanımı yer almaz?

- A) Çiğ
B) Deprem
C) Erozyon
D) Sel

9. Aşağıda bir şehre ait gerçekleşen beş günlük hava durumu verileri bulunmaktadır. Eren ve ailesi bu şehre yolculuk yapıp bir süre orada kalıp sonra ayrılmıştır. Eren bu geziyi şöyle anlatmıştır: "Şehre ulaştığımızda hava parçalı bulutluydu. Ertesi gün hava açılır ve güneşli olur diye düşündük ama öyle olmadı. Bir yağmur başladı ve gün boyu devam etti. Sonraki gün de parçalı bulutluydu hava ve biz yola çıkmak zorundaydık."



Buna göre Eren ve ailesinin şehirde kaldıkları gün bilgisi aşağıdakilerden hangisidir?

- A) Salı geliş Cuma gidiş
B) Perşembe geliş Cumartesi gidiş
C) Çarşamba geliş Perşembe gidiş
D) Salı geliş Cumartesi gidiş

10.



Ülkemizin bir bölümüne ait yukarıdaki fiziki haritada aşağıdakilerden hangisi yer almaz?

- A) Dağların yerleri
B) Ovaların konumları
C) Göller
D) Şehir sınırları

Sosyal Bilgiler testi sona ermiştir. Lütfen Diğer Teste Geçiniz.

Cevap Formunuzda Cevaplarınızı Bir Sonraki Bölüme Kodlayınız.

1. Bir şeyi Allah kesin olarak yasaklamışsa ondan kaçınmak gerekir. Aksi takdirde kişi ahirette hesabını veremeyeceği kötülüklerle bulaşmış olur. Bu gibi kötü bir iş yapan kimse bunun karşılığında alır. Sonra o kimse tövbe etmek için çalışır.

Buna göre kötü olan bir işin yapılmasından dolayı kişiye verilen karşılık aşağıdakilerden hangisidir?

- A) Fesat
B) Mekruh
C) Helal
D) Günah

2.

Kelime-i Şehadet

أَشْهَدُ أَنْ لَا إِلَهَ إِلَّا اللَّهُ ۖ وَأَشْهَدُ أَنَّ مُحَمَّدًا عَبْدُهُ وَرَسُولُهُ ۖ

Okunuşu: "Eşhedü en la ilahe illallah ve eşhedü enne Muhammeden abdühü ve resulühü"

Bu ifadeyi aynı zamanda aşağıdakilerden hangisinin sonunda okuruz?

- A) Fatiha suresi
B) Amentü
C) Salli Barik
D) İhlas suresi

3. Peygamberimizin doğumundan kısa zaman önce önemli bir olay yaşanmıştı. Mekke'yi ele geçirmek ve Kabe'yi yıkmak için gelen bir ordu Allah tarafından mucizevi şekilde yok edildi. Bu olay Kur'an-ı Kerim'de Türkçe anlamı "Görmedin mi Rabbin fil ordusuna ne yaptı?" şeklinde başlayan surede anlatılmaktadır.

Bu surede Allah'ın Kabe'yi koruması aşağıdakilerden hangisi ile olmuştur?

- A) En güçlü meleklerden bir ordu göndermesi
B) Peygamberimizin dedesi Abdulmuttalip liderliğinde bir ordunun yenmesi
C) Şiddetli bir ses ve tufanla düşmanı suda boğması
D) Küçük kuşlardan oluşan sürü ile taşlatması

4. Yüce Allah (c.c.) tarafından peygamberler aracılığıyla insanlara, hayatın hangi ilkelere göre yönlendirilmesi, nelere uyulup nelerden sakınılması gerektiğini bildiren ilahi bilgi ve bu bilginin gönderiliş şekline denir.

Metinde geçen kavram aşağıdakilerden hangisidir?

- A) El-Emin
B) Meal
C) Vahiy
D) Ayet

5.



Allah'ım senden başka ilah yoktur. En yüce ve büyük olan Sen'sin. Verdiğin nimetler için sana şükürler olsun.

Çocuğun sözleri arasında aşağıdakilerden hangisinin anlamına değinilmemiştir?

- A) Allahu Ekber
B) Elhamdulillah
C) İnşaallah
D) La ilahe illallah

Din Kültürü ve Ahlak Bilgisi testi sona ermiştir. Lütfen Diğer Teste Geçiniz.

Cevap Formunuzda Cevaplarınızı Bir Sonraki Bölüme Kodlayınız.

1.



Hi! My name is
James. I like
..... basket-
ball.

Noktalı yere aşağıdakilerden hangisi getirilmelidir?

- A) Playing
- B) Swimming
- C) Climbing
- D) Reading

2. A :

B : She is from Italy.

Diyalogda boş bırakılan yere uygun düşen soruyu işaretleyiniz.

- A) What do you do?
- B) What is she like?
- C) Where is she from?
- D) Where are they?

3. A : Is this your bicycle?

B : Yes, it is.

A : Can you it?

B : Yes, I can.

Diyalogda boş bırakılan yere uygun düşen seçeneği işaretleyiniz.

- A) climb
- B) ride
- C) drive
- D) catch

4.



Resme uygun açıklama aşağıdakilerden hangisidir?

- A) He is under the wall.
- B) He is behind the wall.
- C) He is near the wall.
- D) He is in front of the wall.

5. (1) I have breakfast at 07:45.

(2) I wash my hands and face.

(3) I get up at seven thirty in the morning.

(4) I go to school at eight o'clock

Verilenlerin anlamlı bir paragraf oluşturması için sıralaması aşağıdakilerden hangisi olmalıdır?

- A) 3 - 2 - 1 - 4
- B) 1 - 3 - 4 - 2
- C) 2 - 1 - 3 - 4
- D) 3 - 1 - 2 - 4

Sınav sona ermiştir. Cevaplarınızı kontrol etmeyi unutmayınız.

